

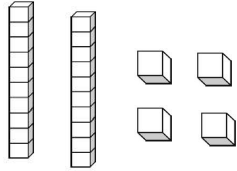
LES DIZAINES ET LES UNITES

Rappel de la leçon : Pour trouver facilement combien il y a d'objets, on groupe les objets dans des paquets de 10 , **les dizaines**. Les objets qui ne sont pas dans les paquets de 10 sont **les unités**.

Colle (ou dessine) le nombre de dizaines et le nombre d'unités demandés; écris l'opération.

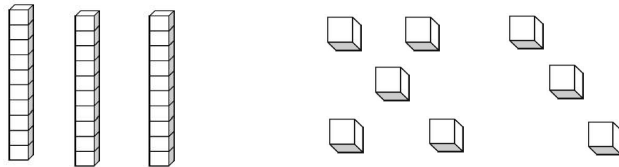
Exemple :

24



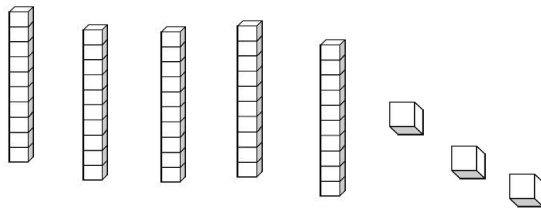
$$10 + 10 + 4 = 24$$

38



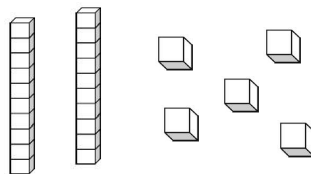
$$10 + 10 + 10 + 8 = 38$$

53



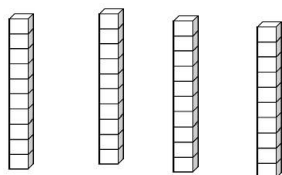
$$10 + 10 + 10 + 10 + 10 + 3 = 53$$

25



$$10 + 10 + 5 = 25$$

40



$$10 + 10 + 10 + 10 + 0 = 40$$